

5 (1) $y = \frac{1}{2}x^2$ のグラフ上に点 D がある。
 \Rightarrow 点 D の情報を $y = \frac{1}{2}x^2$ に代入するということ。

$$y = \frac{1}{2}x^2 \text{ に } x = 4 \text{ を代入}$$

$$y = \frac{1}{2} \times 4^2 = \frac{1}{2} \times 16 = 8$$

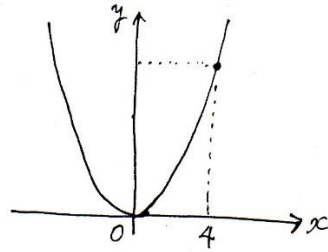
$$y = 8$$

よて、

(4, 8)

← 本番では最初から答案用紙に座標の (,) を書いて
 くれる場合もあるが、しっかりと書けるようにしておく。

() にはカンマ
 x座標 y座標



(2) ① 正方形 OABC の 1 辺の長さは a。

よて、CO = CD = a とする。

図のように点 E を新たに置く。

$\triangle CED$ は直角三角形となる。

三平方の定理より、

$$CD^2 = CE^2 + DE^2 \text{ とする。}$$

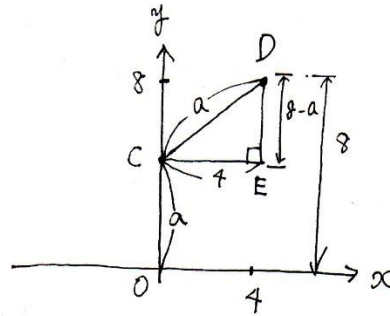
$$a^2 = 4^2 + (8-a)^2$$

$$a^2 = 16 + 64 - 16a + a^2$$

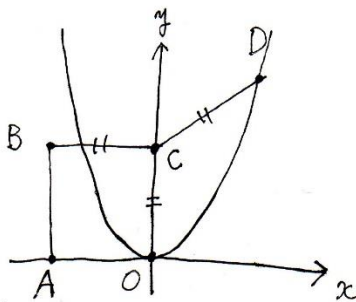
$$a^2 - a^2 = 80 - 16a$$

$$16a = 80$$

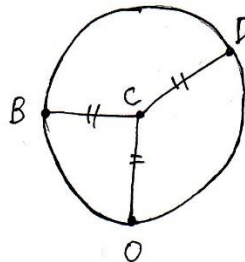
$$\underline{a = 5}$$



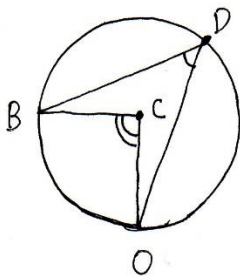
②



\Rightarrow



中がみまうてますが、
 点 C を中心として、
 B, D, O を通る円となる。



円周角の特性から、同じ弧を持つ円周角は中心角の $\frac{1}{2}$ となる。

$\angle BCO$ は正方形 OABC の 1 角だから 90° 。

弧 BO に対する中心角が $\angle BCO$ で、 90° となる。

つまり、弧 BO に対する円周角は 90° の半分で 45° となる。

正答例を確認して、答え方をマスターしておく。

$$\underline{\underline{\angle ODB = 45^\circ}}$$

6 (1)

$\triangle ABC$ は正三角形より、

$$\angle EBD = \angle DCF = 60^\circ \dots\dots ①$$

三角形の1つの外角はそれと隣り合わない2つの内角の和に等しいので、

$$\angle EDC = \angle EBD + \angle BED$$

また、

$$\angle EDC = \angle EDF + \angle CDF$$

($\overset{\circ}{\sim}$ = $\underset{\circ}{\circ}$ + $\underset{\times}{\times}$)

$\angle EDF$ は $\angle BAC$ の折り返し部分なので、

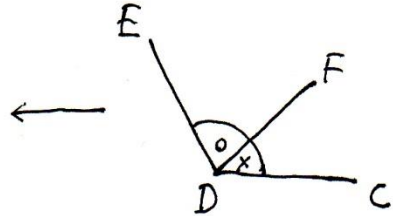
$$\angle EDF = 60^\circ$$

$$\angle EBD = 60^\circ \text{ より、}$$

$$\angle EBD + \angle BED = \angle EDF + \angle CDF$$

$$60^\circ + \angle BED = 60^\circ + \angle CDF$$

$$\angle BED = \angle CDF \dots\dots ②$$



①, ② より

2組の角がそれぞれ等しい。

よって

$$\triangle BDE \sim \triangle CDF$$

6 (2)

~ポイント~

- ① $\triangle ABC$ は $\triangle AEF$ と $\triangle DEF$ と $\triangle BDE$ と $\triangle CFD$ からできている。
- ② $\triangle ABC$ は三平方の定理より、高さを求めれば分かる。
- ③ $\triangle AEF$ と $\triangle DEF$ は折り返し部分なので等しい。 $\triangle AEF + \triangle DEF = 2\triangle DEF$ 。
- ④ $\triangle CFD$ は高さが分かれば求めることができる。
- ⑤ $\triangle BDE$ は $\triangle CFD$ との面積比から求めることができる。

$\triangle ABC$ の面積を求める。

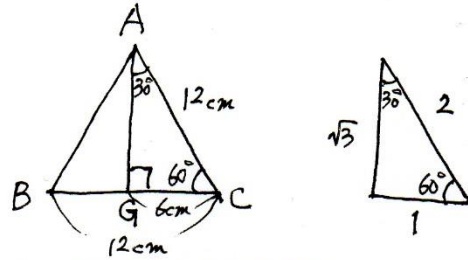
A から BC への垂線を引き、交点を G とおく。

AG は直角三角形の比の関係より、

$$AG = 6\sqrt{3} \text{ cm} \text{ となる。}$$

$$\triangle ABC = BC \times AG \times \frac{1}{2} \text{ (より)}$$

$$= 12 \times 6\sqrt{3} \times \frac{1}{2} = 36\sqrt{3}$$



$$\triangle ABC = 36\sqrt{3} \text{ cm}^2$$

$\triangle CFD$ を求める。

F から BC への垂線を引き、交点を H とおく。

FH は右図のようになると、

$$5:12 = FH:6\sqrt{3} \text{ となる。}$$

$$12FH = 30\sqrt{3}$$

$$FH = \frac{30}{12}\sqrt{3} = \frac{10}{4}\sqrt{3}$$

BC = 12 cm より、

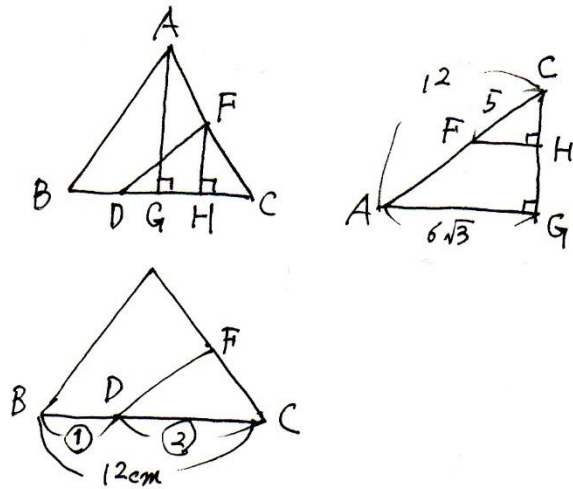
$$BD:DC = 1:2$$

$$DC = \frac{2}{3} \times BC = 8 \text{ cm}$$

$$BD = \frac{1}{3} \times BC = 4 \text{ cm}$$

$$\triangle CFD = DC \times FH \times \frac{1}{2} \text{ (より)}$$

$$= 8 \times \frac{10}{4}\sqrt{3} \times \frac{1}{2} = 10\sqrt{3}$$



$$\triangle CFD = 10\sqrt{3} \text{ cm}^2$$

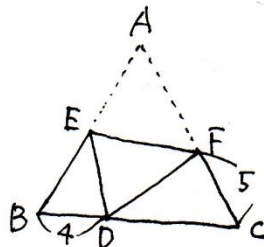
$\triangle BDE$ を求める。

$\triangle BDE$ の $\triangle CFD$ より

辺の比の2乗が面積比となる。

$$BD:CF = 4:5 \text{ より}$$

$$\triangle BDE : \triangle CFD = 4^2 : 5^2$$



$$\triangle BDE : \triangle CFD = 16 : 25$$

$$\triangle BDE = \frac{16}{25} \triangle CFD$$

$$\triangle BDE = \frac{16}{25} \times 10\sqrt{3} = \frac{32}{5}\sqrt{3}$$

$$\triangle BDE = \frac{32}{5}\sqrt{3} \text{ cm}^2$$

$\triangle DEF$ を求める。

$$\triangle ABC = 2\triangle DEF + \triangle BDE + \triangle CFD \text{ より、}$$

$$36\sqrt{3} = 2\triangle DEF + \frac{32}{5}\sqrt{3} + 10\sqrt{3}$$

$$2\triangle DEF = 36\sqrt{3} - \frac{32}{5}\sqrt{3} - 10\sqrt{3}$$

$$= 26\sqrt{3} - \frac{32}{5}\sqrt{3}$$

← 通分して求める。

$$= \frac{130}{5}\sqrt{3} - \frac{32}{5}\sqrt{3}$$

$$2\triangle DEF = \frac{98}{5}\sqrt{3}$$

$$\triangle DEF = \frac{98}{5}\sqrt{3} \times \frac{1}{2}$$

$$= \frac{49}{5}\sqrt{3}$$

よって $\triangle DEF$ の面積は

$$\underline{\underline{\frac{49}{5}\sqrt{3} \text{ cm}^2}}$$